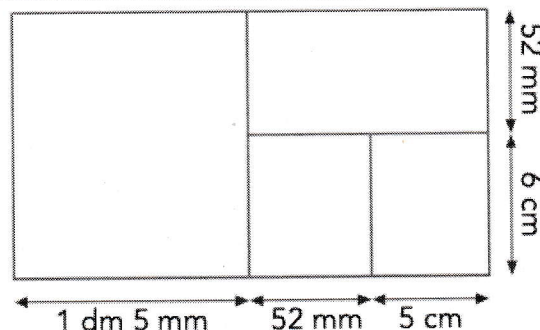
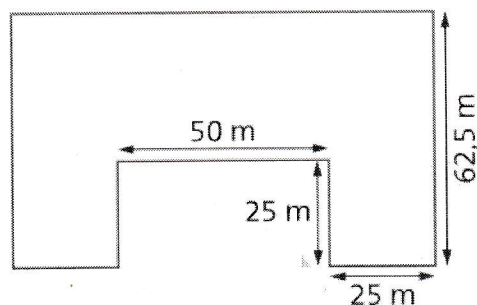


⇒ **Exercice 3** : Complète les tableaux suivants.

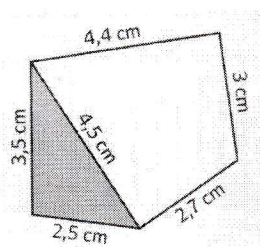
Carré	
côté	périmètre
9 cm	...
...	28 cm
...	38 cm
15,5 cm	...
...	47 cm

Rectangle			
longueur	largeur	demi-périmètre	périmètre
9 cm	4 cm
...	9 cm	...	46 cm
9,5 cm	...	17,3 cm	...
10,4 cm	7,6 cm
...	6,3 cm	...	28,4 cm

⇒ **Exercice 1** : Calcule le périmètre de ces figures.




⇒ **Exercice 2** : Réponds aux différentes questions.



- Quel est le périmètre de la figure grise ?
- Quel est le périmètre de la figure blanche ?
- Quel est le périmètre du polygone formé par les deux figures ?

⇒ **Exercice 3** : Résous les problèmes suivants.



Une joueuse de tennis veut s'échauffer avant son match en effectuant trois tours du court de tennis.

Quelle distance en mètres aura-t-elle parcouru ?
