

Nom :

Date :

Exercices

Reconnaître et décrire des solides

1 Classe ces solides en deux groupes

Les polyèdres :


.....

.....

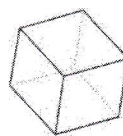
Les non polyèdres

.....


.....



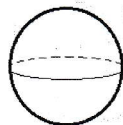
① Le cône




② Le cube



③ Le cylindre



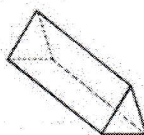
④ La sphère



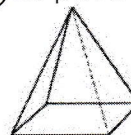
⑤ Le pavé



⑥ Le tétraèdre



⑦ Le prisme



⑧ La pyramide

2 Complète le tableau

Solide	Nombre de faces	Nombre de sommets	Nombre d'arêtes
 pavé
 cube
 pyramide
 prisme
 cône