













5 Complète avec <, > ou =

1 l	>	10 cl	1 hl	>	10 l
100 cl	<	1 hl	14 hl	=	1 400 l
1 000 l	>	1 hl	1 dl	=	10 cl

6 Numérote les contenances suivantes dans l'ordre croissant.

					
125 cl	1,3 l	15 dl	130 ml	30 cl	500 ml
4	5	6	1	2	3

7 Numérote les contenances suivantes dans l'ordre décroissant.

					
3 dal	20 l	0,1 hl	150 cl	10 dal	200 ml
5	4	3	2	6	1