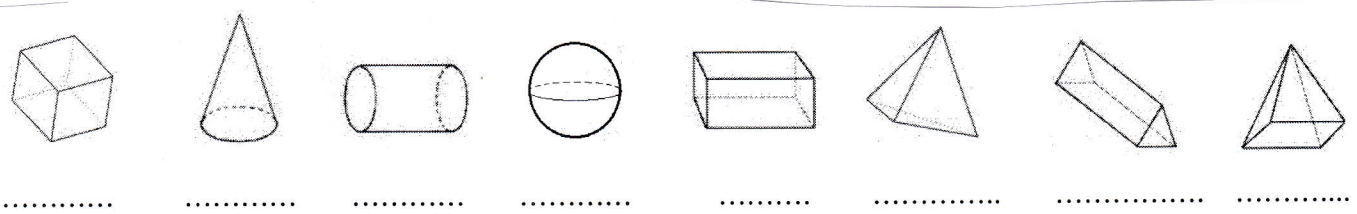
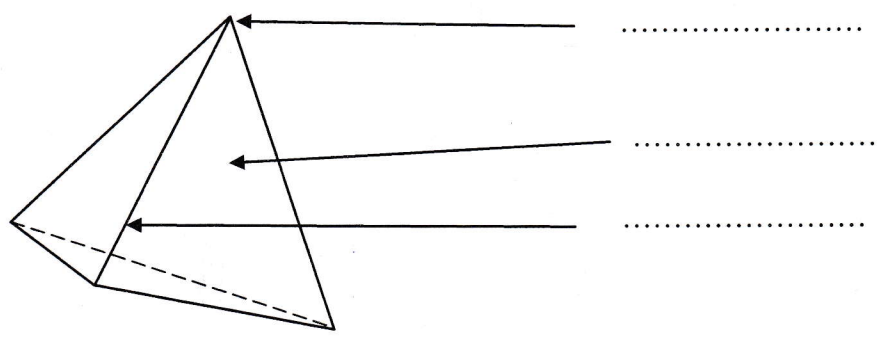


# ① Connaître les solides

## 1 Nomme les solides suivants



## 2 Complète la légende

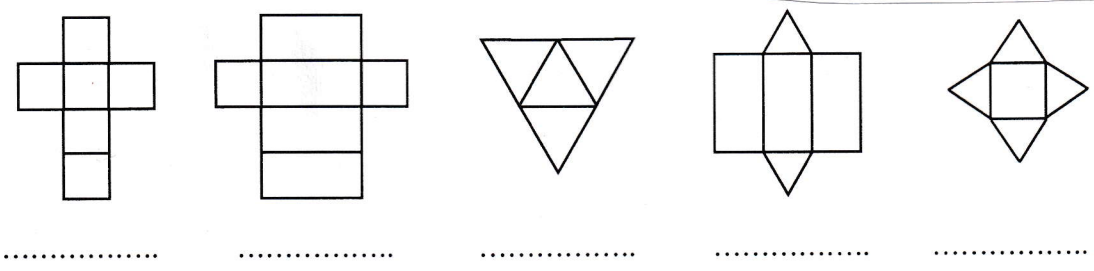


## 3 Qui suis-je ?

- J'ai 4 faces triangulaires .....
- J'ai 6 faces identiques .....
- J'ai 2 faces triangulaires et 3 faces rectangulaires .....
- J'ai 2 faces et un seul sommet .....

# ② Reconnaître les patrons de solides

## 1 A quels solides correspondent ces patrons ?



## 2 Colorie les patrons qui permettent de construire un pavé droit

